

تم تحميل هذا الملف من موقع المناهج العُمانية



*للحصول على أوراق عمل لجميع الصفوف وجميع المواد اضغط هنا

<https://almanahj.com/om>

* للحصول على أوراق عمل لجميع مواد الصف الثاني اضغط هنا

<https://almanahj.com/om/2>

* للحصول على جميع أوراق الصف الثاني في مادة رياضيات ولجميع الفصول, اضغط هنا

<https://almanahj.com/om/2math>

* للحصول على أوراق عمل لجميع مواد الصف الثاني في مادة رياضيات الخاصة بـ الفصل الثاني اضغط هنا

<https://almanahj.com/om/2math2>

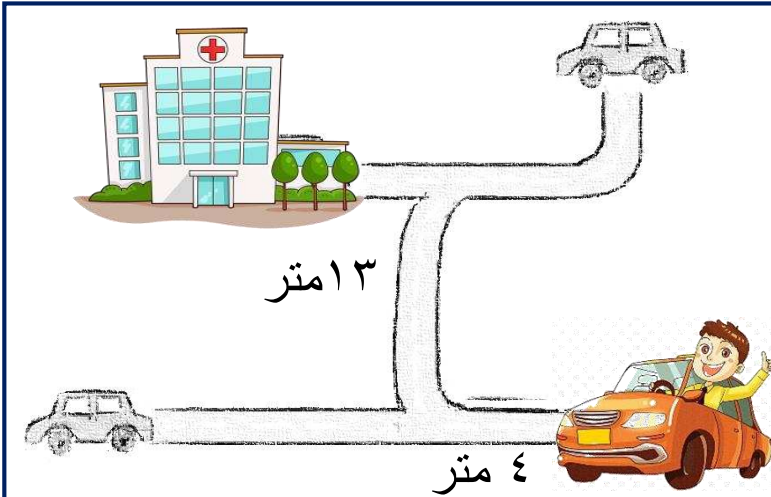
* لتحميل كتب جميع المواد في جميع الفصول للـ الصف الثاني اضغط هنا

<https://almanahj.com/om/grade2>

للتحدث إلى بوت على تلغرام: اضغط هنا

https://t.me/omcourse_bot

استقصاء



قطع ناصر مسافة ٤ متر
ثم قطع مسافة ١٣ متر لكي
يصل الى المستشفى
احسب المسافة التي قطعها ناصر ؟
.....



علي



حسن

يريد حسن و علي حساب سعة كل من دلوهما يستخدم علي وحسن
ابريقا سعة لتر واحد لملء الدلو بالماء .

١- كم ابريقا يحتاج حسن لملئ الدلو ؟..... ابريق

٢- كم ابريقا يحتاج علي لملئ الدلو ؟..... ابريق

٣- اذا اراد علي استخدام ابريق سعة ٢ لتر كم يحتاج لملء

دلوه ؟..... ابريق

أحمد



يقول احمد ان لديه
واحد كيلو غرام

سالم



يقول سالم ان لديه
واحد كيلو غرام

٢- أيهما علي حق؟.....

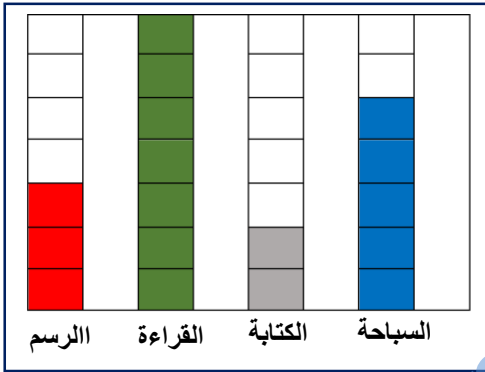
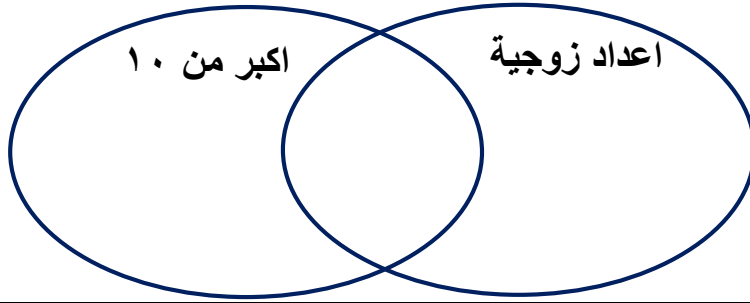
٣- وضح ذلك؟.....

.....

سؤال قصير ٣ الصف الثاني رياضيات

الاسم الصف

١ ضع الاعداد التالية في مخطط فن (٤ - ٨ - ١٢ - ١٥ - ١٦)



٢ من خلال الرسم البياني اجب عن الأسئلة التالية

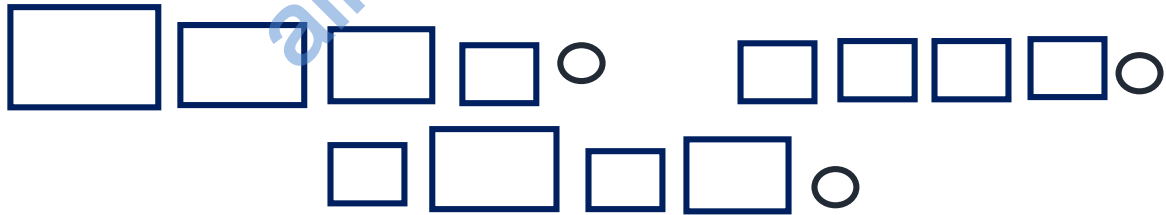
١- كم عدد التلاميذ الذين يفضلون السباحة؟

.....

٢- ما الهواية الأكثر تفضيلاً بين الطلاب؟

.....

٣ اختر التراكيب التي تتداخل مع بعضها البعض



٤ باستخدام المسطرة ارسم خط بطول ٥ سم

٥ كم غرام في الكيلو غرام؟

١٠٠ غرام

١٠٠٠ غرام

١٠٠٠ غرام